

Единый государственный экзамен по ИНФОРМАТИКЕ

Демонстрационный вариант
контрольных измерительных материалов
единого государственного экзамена 2022 года
по ИНФОРМАТИКЕ

подготовлен федеральным государственным бюджетным
научным учреждением

«ФЕДЕРАЛЬНЫЙ ИНСТИТУТ ПЕДАГОГИЧЕСКИХ ИЗМЕРЕНИЙ»

ПРОВОДИТСЯ В КОМПЬЮТЕРНОЙ ФОРМЕ

Единый государственный экзамен по ИНФОРМАТИКЕ

**Пояснения к демонстрационному варианту контрольных
измерительных материалов единого государственного экзамена
2022 года по ИНФОРМАТИКЕ**

При ознакомлении с демонстрационным вариантом контрольных измерительных материалов ЕГЭ 2022 г. следует иметь в виду, что задания, включённые в него, не отражают всех вопросов содержания, которые будут проверяться с помощью вариантов КИМ в 2022 г. Полный перечень вопросов, которые могут контролироваться на едином государственном экзамене 2022 г., приведён в кодификаторе элементов содержания и требований к уровню подготовки выпускников образовательных организаций для проведения единого государственного экзамена 2022 г. по информатике.



В демонстрационном варианте представлены конкретные примеры заданий, не исчерпывающие всего многообразия возможных формулировок заданий на каждой позиции варианта экзаменационной работы.

Назначение демонстрационного варианта заключается в том, чтобы дать возможность любому участнику ЕГЭ и широкой общественности составить представление о структуре будущих КИМ, количестве заданий, об их форме и уровне сложности.

Эти сведения позволят выпускникам выработать стратегию подготовки к ЕГЭ в 2022 г.

**Демонстрационный вариант
контрольных измерительных материалов
единого государственного экзамена 2022 года
по ИНФОРМАТИКЕ**

Инструкция по выполнению работы

Экзаменационная работа состоит из 27 заданий с кратким ответом, выполняемых с помощью компьютера.

На выполнение экзаменационной работы по информатике отводится 3 часа 55 минут (235 минут).

Экзаменационная работа выполняется с помощью специализированного программного обеспечения, предназначенного для проведения экзамена в компьютерной форме. При выполнении заданий Вам будут доступны на протяжении всего экзамена текстовый редактор, редактор электронных таблиц, системы программирования. Расположение указанного программного обеспечения на компьютере и каталог для создания электронных файлов при выполнении заданий Вам укажет организатор в аудитории.

На протяжении сдачи экзамена доступ к сети Интернет запрещён.

При выполнении заданий можно пользоваться черновиком. **Записи в черновике не учитываются при оценивании работы.**

Баллы, полученные Вами за выполненные задания, суммируются. Постарайтесь выполнить как можно больше заданий и набрать наибольшее количество баллов.

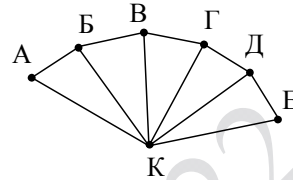
Желаем успеха!

В экзаменационных заданиях используются следующие соглашения.

1. Обозначения для логических связок (операций):
 - a) *отрицание* (инверсия, логическое НЕ) обозначается \neg (например, $\neg A$);
 - b) *конъюнкция* (логическое умножение, логическое И) обозначается \wedge (например, $A \wedge B$) либо $\&$ (например, $A \& B$);
 - c) *дизъюнкция* (логическое сложение, логическое ИЛИ) обозначается \vee (например, $A \vee B$) либо $|$ (например, $A | B$);
 - d) *следование* (импликация) обозначается \rightarrow (например, $A \rightarrow B$);
 - e) *тождество* обозначается \equiv (например, $A \equiv B$). Выражение $A \equiv B$ истинно тогда и только тогда, когда значения A и B совпадают (либо они оба истинны, либо они оба ложны);
 - f) символ 1 используется для обозначения истины (истинного высказывания); символ 0 – для обозначения лжи (ложного высказывания).
2. Два логических выражения, содержащих переменные, называются *равносильными* (эквивалентными), если значения этих выражений совпадают при любых значениях переменных. Так, выражения $A \rightarrow B$ и $(\neg A) \vee B$ равносильны, а $A \vee B$ и $A \wedge B$ неравносильны (значения выражений разные, например, при $A = 1, B = 0$).
3. Приоритеты логических операций: инверсия (отрицание), конъюнкция (логическое умножение), дизъюнкция (логическое сложение), импликация (следование), тождество. Таким образом, $\neg A \wedge B \vee C \wedge D$ означает то же, что и $((\neg A) \wedge B) \vee (C \wedge D)$.
Возможна запись $A \wedge B \wedge C$ вместо $(A \wedge B) \wedge C$. То же относится и к дизъюнкции: возможна запись $A \vee B \vee C$ вместо $(A \vee B) \vee C$.
4. Обозначения Мбайт и Кбайт используются в традиционном для информатики смысле – как обозначения единиц измерения, чьё соотношение с единицей «байт» выражается степенью двойки.

1 На рисунке схема дорог Н-ского района изображена в виде графа, в таблице содержатся сведения о протяжённости каждой из этих дорог (в километрах).

		Номер пункта						
		1	2	3	4	5	6	7
Номер пункта	1		3			4		
	2	3				12	13	
	3				10	11		
	4			10		9		7
	5	4	12	11	9		8	6
	6		13			8		5
	7				7	6	5	



Так как таблицу и схему рисовали независимо друг от друга, то нумерация населённых пунктов в таблице никак не связана с буквенными обозначениями на графе. Определите, какова сумма протяжённости дорог из пункта Б в пункт В и из пункта Г в пункт Д. В ответе запишите целое число.

Ответ: _____.

2 Миша заполнял таблицу истинности логической функции F

$$\neg(y \rightarrow (x \equiv w)) \wedge (z \rightarrow x),$$

но успел заполнить лишь фрагмент из трёх различных её строк, даже не указав, какому столбцу таблицы соответствует каждая из переменных w, x, y, z .

				F
	1	1		1
0			0	1
	0	1	0	1

Определите, какому столбцу таблицы соответствует каждая из переменных w, x, y, z .

В ответе напишите буквы w, x, y, z в том порядке, в котором идут соответствующие им столбцы (сначала буква, соответствующая первому столбцу; затем буква, соответствующая второму столбцу, и т.д.). Буквы в ответе пишите подряд, никаких разделителей между буквами ставить не нужно.

Пример. Функция F задана выражением $\neg x \vee y$, зависящим от двух переменных, а фрагмент таблицы имеет следующий вид.

		F
0	1	0

В этом случае первому столбцу соответствует переменная y , а второму столбцу – переменная x . В ответе следует написать: yx .

Ответ: _____.



Задание выполняется с использованием прилагаемых к заданию файлов.

3 В файле приведён фрагмент базы данных «Продукты» о поставках товаров в магазины районов города. База данных состоит из трёх таблиц.

Таблица «Движение товаров» содержит записи о поставках товаров в магазины в течение первой декады июня 2021 г., а также информацию о проданных товарах. Поле *Тип операции* содержит значение *Поступление* или *Продажа*, а в соответствующее поле *Количество упаковок, шт.* занесена информация о том, сколько упаковок товара поступило в магазин или было продано в течение дня. Заголовок таблицы имеет следующий вид.

ID операции	Дата	ID магазина	Артикул	Тип операции	Количество упаковок, шт.	Цена, руб./шт.
-------------	------	-------------	---------	--------------	--------------------------	----------------

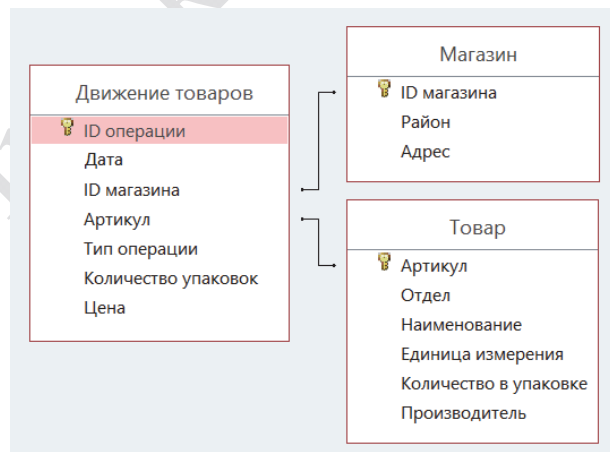
Таблица «Товар» содержит информацию об основных характеристиках каждого товара. Заголовок таблицы имеет следующий вид.

Артикул	Отдел	Наименование	Ед. изм.	Количество в упаковке	Поставщик
---------	-------	--------------	----------	-----------------------	-----------

Таблица «Магазин» содержит информацию о местонахождении магазинов. Заголовок таблицы имеет следующий вид.

ID магазина	Район	Адрес
-------------	-------	-------

На рисунке приведена схема указанной базы данных.



Используя информацию из приведённой базы данных, определите на сколько увеличилось количество упаковок яиц диетических, имеющихся в наличии в магазинах Заречного района, за период с 1 по 10 июня включительно.

В ответе запишите только число.

Ответ: _____.

4 Для кодирования некоторой последовательности, состоящей из букв Л, М, Н, П, Р, решили использовать неравномерный двоичный код, удовлетворяющий условию, что никакое кодовое слово не является началом другого кодового слова. Это условие обеспечивает возможность однозначной расшифровки закодированных сообщений. Для букв Л, М, Н использовали соответственно кодовые слова 00, 01, 11. Для двух оставшихся букв П и Р кодовые слова неизвестны.

Укажите кратчайшее возможное кодовое слово для буквы П, при котором код будет удовлетворять указанному условию. Если таких кодов несколько, укажите код с **наименьшим** числовым значением.

Ответ: _____.

5 На вход алгоритма подаётся натуральное число N . Алгоритм строит по нему новое число R следующим образом.

1. Строится двоичная запись числа N .
2. К этой записи дописываются справа ещё два разряда по следующему правилу:

а) складываются все цифры двоичной записи числа N , и остаток от деления суммы на 2 дописывается в конец числа (справа).

Например, запись 11100 преобразуется в запись 111001;

б) над этой записью производятся те же действия – справа дописывается остаток от деления суммы её цифр на 2.

Полученная таким образом запись (в ней на два разряда больше, чем в записи исходного числа N) является двоичной записью результирующего числа R .

Укажите такое **наименьшее** число N , для которого результат работы данного алгоритма больше числа 77. В ответе это число запишите в десятичной системе счисления.

Ответ: _____.

- 6 Определите, при каком наибольшем введённом значении переменной s программа выведет число 64. Для Вашего удобства программа представлена на четырёх языках программирования.

Паскаль	Python	Алгоритмический язык
<pre>var s, n: integer; begin readln(s); s := s div 10; n := 1; while s < 51 do begin s := s + 5; n := n * 2; end; writeln(n) end.</pre>	<pre>s = int(input()) s = s // 10 n = 1 while s < 51: s = s + 5 n = n * 2 print(n)</pre>	<pre>алг нач цел n, s ввод s s := div(s, 10) n := 1 нц пока s < 51 s := s + 5 n := n * 2 кц вывод n кон</pre>
C++ <pre>#include <iostream> using namespace std; int main() { int s, n; cin >> s; s = s / 10; n = 1; while (s < 51) {s = s + 5; n = n * 2;} cout << n << endl; return 0; }</pre>		

Ответ: _____.

- 7 Для хранения произвольного растрового изображения размером 128×320 пикселей отведено 20 Кбайт памяти без учёта размера заголовка файла. Для кодирования цвета каждого пикселя используется одинаковое количество бит, коды пикселей записываются в файл один за другим без промежутков. Какое максимальное количество цветов можно использовать в изображении?

Ответ: _____.

- 8 Все четырёхбуквенные слова, в составе которых могут быть только буквы Л, Е, М, У, Р, записаны в алфавитном порядке и пронумерованы, начиная с 1. Ниже приведено начало списка.

1. ЕЕЕЕ
2. ЕЕЕЛ
3. ЕЕЕМ
4. ЕЕЕР
5. ЕЕЕУ
6. ЕЕЛЕ

...

Под каким номером в списке идёт первое слово, которое начинается с буквы Л?

Ответ: _____.



Задание выполняется с использованием прилагаемых файлов.

- 9 Откройте файл электронной таблицы, содержащей в каждой строке три натуральных числа. Выясните, какое количество троек чисел может являться сторонами треугольника, то есть удовлетворяет неравенству треугольника. В ответе запишите только число.

Ответ: _____.



Задание выполняется с использованием прилагаемых файлов.

- 10** С помощью текстового редактора определите, сколько раз, не считая сносок, встречается слово «долг» или «Долг» в тексте романа в стихах А.С. Пушкина «Евгений Онегин». Другие формы слова «долг», такие как «долги», «долгами» и т.д., учитывать не следует. В ответе укажите только число.

Ответ: _____.

- 11** При регистрации в компьютерной системе каждому объекту сопоставляется идентификатор, состоящий из 15 символов и содержащий только символы из 8-символьного набора: *A, B, C, D, E, F, G, H*. В базе данных для хранения сведений о каждом объекте отведено одинаковое и минимально возможное целое число байт. При этом используют посимвольное кодирование идентификаторов, все символы кодируют одинаковым и минимально возможным количеством бит. Кроме собственно идентификатора, для каждого объекта в системе хранятся дополнительные сведения, для чего отведено 24 байта на один объект. Определите объём памяти (в байтах), необходимый для хранения сведений о 20 объектах. В ответе запишите только целое число – количество байт.

Ответ: _____.

- 12** Исполнитель Редактор получает на вход строку цифр и преобразовывает её. Редактор может выполнять две команды, в обеих командах *v* и *w* обозначают цепочки цифр.

А) **заменить** (*v, w*).

Эта команда заменяет в строке первое слева вхождение цепочки *v* на цепочку *w*. Например, выполнение команды

заменить (111, 27)

преобразует строку 05111150 в строку 0527150.

Если в строке нет вхождений цепочки *v*, то выполнение команды

заменить (*v, w*) не меняет эту строку.

Б) **нашлось** (*v*).

Эта команда проверяет, встречается ли цепочка *v* в строке исполнителя Редактор. Если она встречается, то команда возвращает логическое значение «истина», в противном случае возвращает значение «ложь». Строка исполнителя при этом не изменяется.

Цикл

ПОКА *условие*

последовательность команд

КОНЕЦ ПОКА

выполняется, пока условие истинно.

В конструкции

ЕСЛИ *условие*

ТО *команда1*

ИНАЧЕ *команда2*

КОНЕЦ ЕСЛИ

выполняется *команда1* (если условие истинно) или *команда2* (если условие ложно).

Какая строка получится в результате применения приведённой ниже программы к строке, состоящей из 70 идущих подряд цифр 8? В ответе запишите полученную строку.

НАЧАЛО

ПОКА **нашлось** (2222) ИЛИ **нашлось** (8888)

ЕСЛИ **нашлось** (2222)

ТО **заменить** (2222, 88)

ИНАЧЕ **заменить** (8888, 22)

КОНЕЦ ЕСЛИ

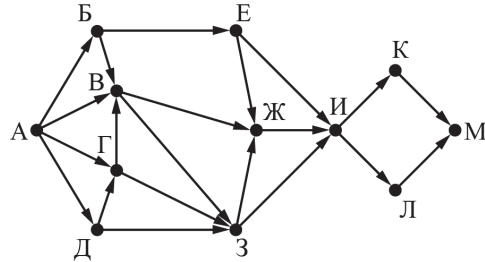
КОНЕЦ ПОКА

КОНЕЦ

Ответ: _____.

13

На рисунке представлена схема дорог, связывающих города А, Б, В, Г, Д, Е, Ж, З, И, К, Л, М. По каждой дороге можно двигаться только в одном направлении, указанном стрелкой. Сколько существует различных путей из города А в город М, проходящих через город В?



Ответ: _____.

14

Значение арифметического выражения

$$3 \cdot 4^{38} + 2 \cdot 4^{23} + 4^{20} + 3 \cdot 4^5 + 2 \cdot 4^4 + 1$$

записали в системе счисления с основанием 16. Сколько значащих нулей содержится в этой записи?

Ответ: _____.

15

На числовой прямой даны два отрезка: $D = [17; 58]$ и $C = [29; 80]$. Укажите **наименьшую** возможную длину такого отрезка А, для которого логическое выражение

$$(x \in D) \rightarrow ((\neg(x \in C) \wedge \neg(x \in A)) \rightarrow \neg(x \in D))$$

истинно (т.е. принимает значение 1) при любом значении переменной x .

Ответ: _____.

16

Алгоритм вычисления значения функции $F(n)$, где n – натуральное число, задан следующими соотношениями:

$$F(n) = 1 \text{ при } n = 1;$$

$$F(n) = n + F(n - 1), \text{ если } n \text{ чётно,}$$

$$F(n) = 2 \times F(n - 2), \text{ если } n > 1 \text{ и при этом } n \text{ нечётно.}$$

Чему равно значение функции $F(26)$?

Ответ: _____.



Задание выполняется с использованием прилагаемых файлов.

17

В файле содержится последовательность целых чисел. Элементы последовательности могут принимать целые значения от $-10\,000$ до $10\,000$ включительно. Определите и запишите в ответе сначала количество пар элементов последовательности, в которых хотя бы одно число делится на 3, затем максимальную из сумм элементов таких пар. В данной задаче под парой подразумевается два идущих подряд элемента последовательности. Например, для последовательности из пяти элементов:

6; 2; 9; -3; 6 – ответ:

4	11
---	----

Ответ:

--	--



Задание выполняется с использованием прилагаемых файлов.

18

Квадрат разлинован на $N \times N$ клеток ($1 < N < 30$). Исполнитель Робот может перемещаться по клеткам, выполняя за одно перемещение одну из двух команд: **вправо** или **вниз**. По команде **вправо** Робот перемещается в соседнюю правую клетку, по команде **вниз** – в соседнюю нижнюю. Квадрат ограничен внешними стенами. Между соседними клетками квадрата также могут быть внутренние стены. Сквозь стену Робот пройти не может. Перед каждым запуском Робота в каждой клетке квадрата лежит монета достоинством от 1 до 100. Посетив клетку, Робот забирает монету с собой; это также относится к начальной и конечной клеткам маршрута Робота. Определите максимальную и минимальную денежные суммы, которые может собрать Робот, пройдя из левой верхней клетки в правую нижнюю. В ответе укажите два числа – сначала максимальную сумму, затем минимальную.

Исходные данные представляют собой электронную таблицу размером $N \times N$, каждая ячейка которой соответствует клетке квадрата. Внутренние и внешние стены обозначены утолщенными линиями.

Пример входных данных:

1	8	8	4
10	1	1	3
1	3	12	2
2	3	5	6

Для указанных входных данных ответом должна быть пара чисел

38	22
----	----

Ответ:

--	--

19

Два игрока, Петя и Ваня, играют в следующую игру. Перед игроками лежит куча камней. Игроки ходят по очереди, первый ход делает Петя. За один ход игрок может добавить в кучу **один** камень или увеличить количество камней в куче в **два раза**. Для того чтобы делать ходы, у каждого игрока есть неограниченное количество камней.

Игра завершается в тот момент, когда количество камней в куче становится не менее 29. Победителем считается игрок, сделавший последний ход, т.е. первым получивший кучу, в которой будет 29 или больше камней.

В начальный момент в куче было S камней, $1 \leq S \leq 28$.

Будем говорить, что игрок имеет *выигрышную стратегию*, если он может выиграть при любых ходах противника. Описать стратегию игрока – значит описать, какой ход он должен сделать в любой ситуации, которая ему может встретиться при различной игре противника. В описание выигрышной стратегии **не следует** включать ходы играющего по этой стратегии игрока, не являющиеся для него безусловно выигрышными, т.е. не являющиеся выигрышными независимо от игры противника.

Укажите такое значение S , при котором Петя не может выиграть за один ход, но при любом ходе Пети Ваня может выиграть своим первым ходом.

Ответ: _____.

20 Для игры, описанной в задании 19, найдите два таких значения S , при которых у Пети есть выигрышная стратегия, причём одновременно выполняются два условия:

- Петя не может выиграть за один ход;
- Петя может выиграть своим вторым ходом независимо от того, как будет ходить Ваня.

Найденные значения запишите в ответе в порядке возрастания.

Ответ:

21 Для игры, описанной в задании 19, найдите значение S , при котором одновременно выполняются два условия:

- у Вани есть выигрышная стратегия, позволяющая ему выиграть первым или вторым ходом при любой игре Пети;
- у Вани нет стратегии, которая позволит ему гарантированно выиграть первым ходом.

Если найдено несколько значений S , в ответе запишите минимальное из них.

Ответ: _____.

22 Ниже на четырёх языках программирования записан алгоритм. Получив на вход число x , этот алгоритм печатает два числа: L и M . Укажите **наибольшее** число x , при вводе которого алгоритм печатает сначала 4, а потом 5.

C++	Python
<pre>#include <iostream> using namespace std; int main() { int x, L, M, Q; cin >> x; Q = 9; L = 0; while (x >= Q){ L = L + 1; x = x - Q; } M = x; if (M < L){ M = L; L = x; } cout <<L <<endl <<M <<endl; return 0; }</pre>	<pre>x = int(input()) Q = 9 L = 0 while x >= Q: L = L + 1 x = x - Q M = x if M < L: M = L L = x print(L) print(M)</pre>
Алгоритмический язык	Паскаль
<pre>алг нач цел x, L, M, Q ввод x Q := 9 L := 0 нц пока x >= Q L := L + 1 x := x - Q кц M := x если M < L то M := L L := x все вывод L, M кон</pre>	<pre>var x, L, M, Q: integer; begin readln(x); Q := 9; L := 0; while x >= Q do begin L := L + 1; x := x - Q; end; M := x; if M < L then begin M := L; L := x; end; writeln(L); writeln(M); end.</pre>

Ответ: _____.

23

Исполнитель преобразует число на экране.

У исполнителя есть две команды, которым присвоены номера:

1. Прибавить 1

2. Умножить на 2

Программа для исполнителя – это последовательность команд.

Сколько существует программ, для которых при исходном числе 1 результатом является число 20, и при этом траектория вычислений содержит число 10?

Траектория вычислений программы – это последовательность результатов выполнения всех команд программы. Например, для программы **121** при исходном числе 7 траектория будет состоять из чисел 8, 16, 17.

Ответ: _____.



Задание выполняется с использованием прилагаемых файлов.

24

Текстовый файл состоит из символов P , Q , R и S .

Определите максимальное количество идущих подряд символов в прилагаемом файле, среди которых нет идущих подряд символов P .

Для выполнения этого задания следует написать программу.

Ответ: _____.

25

Пусть M – сумма минимального и максимального натуральных делителей целого числа, не считая единицы и самого числа. Если таких делителей у числа нет, то значение M считается равным нулю.

Напишите программу, которая перебирает целые числа, большие 700 000, в порядке возрастания и ищет среди них такие, для которых значение M оканчивается на 8. Выведите первые пять найденных чисел и соответствующие им значения M .

Формат вывода: для каждого из пяти таких найденных чисел в отдельной строке сначала выводится само число, затем – значение M .

Строки выводятся в порядке возрастания найденных чисел.

Количество строк в таблице для ответа избыточно.

Ответ:

...	...



Задание выполняется с использованием прилагаемых файлов.

26

Системный администратор раз в неделю создаёт архив пользовательских файлов. Однако объём диска, куда он помещает архив, может быть меньше, чем суммарный объём архивируемых файлов.

Известно, какой объём занимает файл каждого пользователя.

По заданной информации об объёме файлов пользователей и свободном объёме на архивном диске определите максимальное число пользователей, чьи файлы можно сохранить в архиве, а также максимальный размер имеющегося файла, который может быть сохранён в архиве, при условии, что сохранены файлы максимально возможного числа пользователей.

Входные данные.

В первой строке входного файла находятся два числа: S – размер свободного места на диске (натуральное число, не превышающее 10 000) и N – количество пользователей (натуральное число, не превышающее 1000). В следующих N строках находятся значения объёмов файлов каждого пользователя (все числа натуральные, не превышающие 100), каждое – в отдельной строке.

Запишите в ответе два числа: сначала наибольшее число пользователей, чьи файлы могут быть помещены в архив, затем – максимальный размер имеющегося файла, который может быть сохранён в архиве, при условии, что сохранены файлы максимально возможного числа пользователей.

Пример входного файла:

```
100 4
80
30
50
40
```

При таких исходных данных можно сохранить файлы максимум двух пользователей. Возможные объёмы этих двух файлов – 30 и 40, 30 и 50 или 40 и 50. Наибольший объём файла из перечисленных пар – 50, поэтому ответ для приведённого примера:

2	50
---	----

Ответ:

--	--



Задание выполняется с использованием прилагаемых файлов.

27

Дана последовательность из N натуральных чисел. Рассматриваются все её непрерывные подпоследовательности, такие что сумма элементов каждой из них кратна $k = 43$. Найдите среди них подпоследовательность с максимальной суммой, определите её длину. Если таких подпоследовательностей найдено несколько, в ответе укажите количество элементов самой короткой из них.

Входные данные

Даны два входных файла (файл A и файл B), каждый из которых содержит в первой строке количество чисел N ($1 \leq N \leq 10\,000\,000$). Каждая из следующих N строк содержит одно натуральное число, не превышающее 10000.

Пример организации исходных данных во входном файле:

7
1
3
4
93
8
5
95

В ответе укажите два числа: сначала значение искомой суммы для файла A , затем – для файла B .

Предупреждение: для обработки файла B не следует использовать переборный алгоритм, вычисляющий сумму для всех возможных вариантов, поскольку написанная по такому алгоритму программа будет выполняться слишком долго.

Ответ:

Система оценивания экзаменационной работы по информатике

За правильный ответ на задания 1–25 ставится 1 балл; за неверный ответ или его отсутствие – 0 баллов.

За верный ответ на задание 26 ставится 2 балла; если значения в ответе перепутаны местами ИЛИ в ответе присутствует только одно верное значение (второе неверно или отсутствует), ставится 1 балл. В остальных случаях – 0 баллов.

За верный ответ на задание 27 ставится 2 балла; если значения в ответе перепутаны местами ИЛИ в ответе присутствует только одно верное значение (второе неверно или отсутствует) – ставится 1 балл. В остальных случаях – 0 баллов.

Номер задания	Правильный ответ
1	20
2	wxyz
3	966
4	100
5	19
6	259
7	16
8	126
9	2453
10	1
11	600
12	22
13	24
14	15
15	12

Номер задания	Правильный ответ	
16	4122	
17	2802	1990
18	721	640
19	14	
20	7	13
21	12	
22	49	
23	28	
24	188	
25	700005	233338
	700007	100008
	700012	350008
	700015	140008
	700031	24168
26	568	50
27	185	329329